

Прізвище : .....

кінець класу CM

Ім'я : .....

**Тест з математики**

**1. Написати цифрами кожне з поданих чисел:**

a) п'ять мільйонів сто двадцять три тисячі сто двадцять:

.....

b) дев'ять мільйонів тридцять тисяч:

.....

c) вісімсот мільйонів вісімдесят: .....

**2. Заповнити подану таблицю наступними числами:**

a) 400 000 038

b) 6 050 000

c) 35 235 230

| мільйони |         |         | тисячі |         |         | прості числа |         |         |
|----------|---------|---------|--------|---------|---------|--------------|---------|---------|
| сотні    | десятки | одиниці | сотні  | десятки | одиниці | сотні        | десятки | одиниці |
|          |         |         |        |         |         |              |         |         |
|          |         |         |        |         |         |              |         |         |
|          |         |         |        |         |         |              |         |         |

**3. Поставити правильний знак (< або >).**

Приклад: 5645 < 8304      12578 > 1259

7 688 ... 13 200      8 000 002 ... 948 725      623 710 ..... 623 290

**4. Поставити наступні числа у порядку зростання.**

75 128 71 258 75 218    72 158 71 725 75 812

.....

**5. Порахувати.**

$$\begin{array}{r} 274 \\ + 487 \\ \hline \end{array}$$

$$\begin{array}{r} 2456 \\ - 975 \\ \hline \end{array}$$

**6. Здійснити наступні дії.**

$$\begin{array}{r} 45 \\ \times 24 \\ \hline \end{array}$$

$$\begin{array}{r} 389 \\ \times 207 \\ \hline \end{array}$$

**7. У магазині продаються пакети, в яких по 8 цукерок.**

**а) Порахувати кількість цукерок, якщо ми купимо:**



6 пакетів

20 пакетів

розрахунок: .....      розрахунок: .....

**б) Скільки потрібно пакетів, щоб було:**



32 цукерки      96 цукерок

розрахунок: .....      розрахунок: .....



**с) Поль купив 80 цукерок.**

1) Він з'їв 14 цукерок, скільки цукерок у нього залишилось?

.....

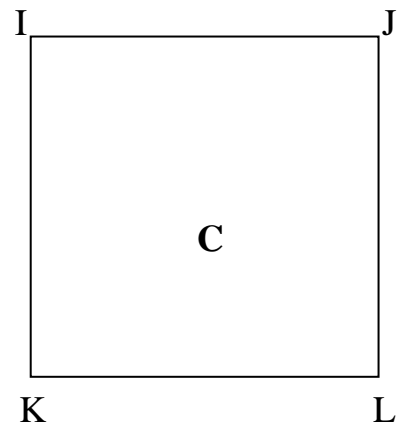
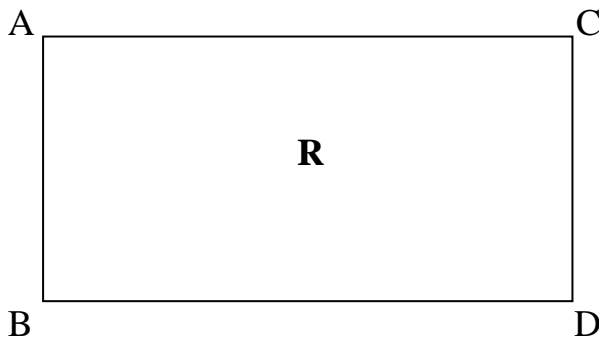
2) Він вирішує розділити цукерки, що залишилися, зі своєю сестрою, скільки у кожного з них буде цукерок?

.....

3) Мама дає Полю ще 7 цукерок, скільки тепер у нього цукерок?

.....

**8. Ось прямокутник R і квадрат C.**



а) Поміряти сторони фігур.

AB = .....см    IJ = ..... см

BD = .....см

**9. Доповнити.**

1 година = ..... хвилини

1,2 км = ..... м

30хвилини = ..... секунд

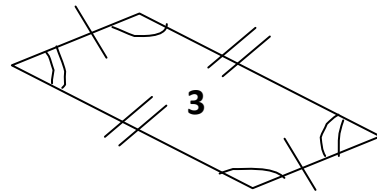
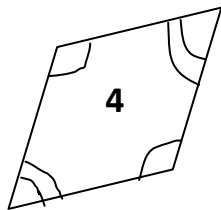
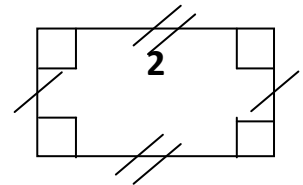
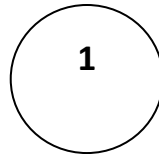
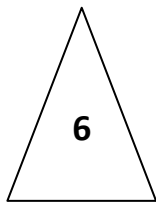
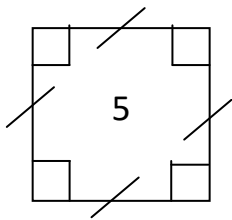
.....км = 10500 м

2 години = ..... хвилини

$\frac{1}{2}$ км = .....

10. Заповнити таблицю, вказавши номер фігури.

| Трикутник | квадрат | ромб | круг | паралелограм | прямокутник |
|-----------|---------|------|------|--------------|-------------|
|           |         |      |      |              |             |



11. Про подану нижче фігуру ми кажемо, що фігура 2 симетрична фігурі 1 відносно прямої D.

Накреслити фігуру, симетричну фігурі 3 відносно прямої D.

